



W krainie Bubal.

Sposoby zapisywania liczb

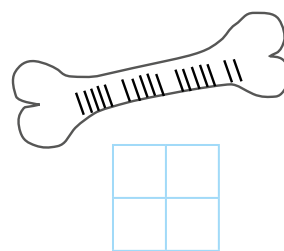
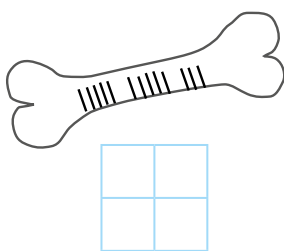
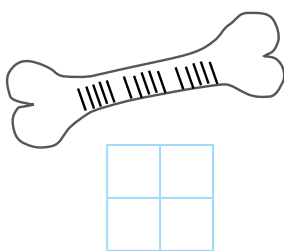
Zadanie 1. Ludzie pierwotni zapisywali wyniki liczenia, nacinając kreski na kościach.

a) Czy wszystkie owce jaskiniowca przedstawionego na obrazku są na pastwisku?

TAK NIE




b) Na poniższych kościach zaznaczono liczby owiec w stadach różnych pasterzy. Zapisz, ile owiec jest w poszczególnych stadach.




Zadanie 2. Starożytni Majowie do zapisywania liczb używali kropek i kresek. Korzystając z instrukcji w ramce, ustal jakie liczby zapisano na tabliczkach.

0	— 5
• 1	•— 6
•• 2	••— 7
••• 3	== 10
•••• 4	•== 11



Spodobały Ci się nasze zadania? Poznaj „Wielkie odkrycie Bubal”.
Kup książkę z rabatem 45% - wykorzystaj kod: **KOD-BIBL-LOKO**
na ksiegarnia.gwo.pl.




Zadanie 3. Bez przeliczania wszystkich kresek ustal, ile kresek narysowano w każdym rzędzie.

Zadanie 4. Jeszcze 500 lat temu stosowano w Europie system rzymski zapisu liczb. Ustal, jakie liczby zapisał kupiec wenecki. Zapisz je w kolejności od najmniejszej do największej.



Zadanie 5. Ponumeruj kamienie kolejnymi liczbami od 1 do 12. Użyj znaków rzymskich.

Spodobały Ci się nasze zadania? Poznaj „Wielkie odkrycie Bubal”.
 Kup książkę z rabatem 45% - wykorzystaj kod: **KOD-BIBL-LOKO**
 na ksiegarnia.gwo.pl.










Zadanie 6. a) Wpisz w okienkach odpowiednie znaki rzymskie.

3	8	1	7	12	6	9	10	4
III								

b) Wpisz w okienkach odpowiednie liczby.

V	XII	II	VI	VIII	IX	IV	X	XI
5								

Zadanie 7*. Połącz równe liczby.

15	13	18	17	14	19	16	20
XIX	XVIII	XVI	XV	XVII	XX	XIII	XIV
 Tłuscioszka	 Chudziśka	 Wesolka	 Kreciołka	 Białuśka	 Bródka		

Spodobały Ci się nasze zadania? Poznaj „Wielkie odkrycie Bubal”.
Kup książkę z rabatem 45% - wykorzystaj kod: **KOD-BIBL-LOKO**
na ksiegarnia.gwo.pl.

