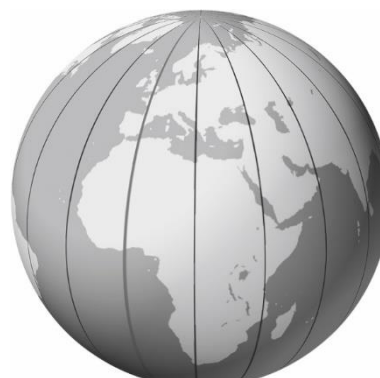


.....
imię i nazwisko, klasa

Zadanie 1. Wpisz nazwy zaznaczonych linii.



a)

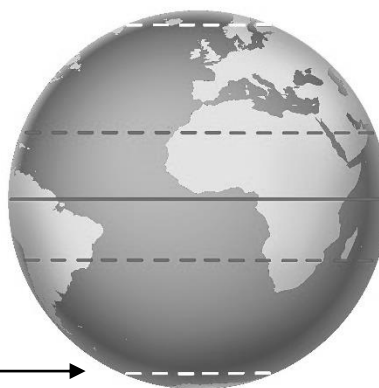


b)

c) →

d) →

e) →



Zadanie 2. Z poniższych zdań zaznacz dwa, które odnoszą się do równoleżników.

A. Są jednakowej długości.

C. Najdłuższym z nich jest równik.

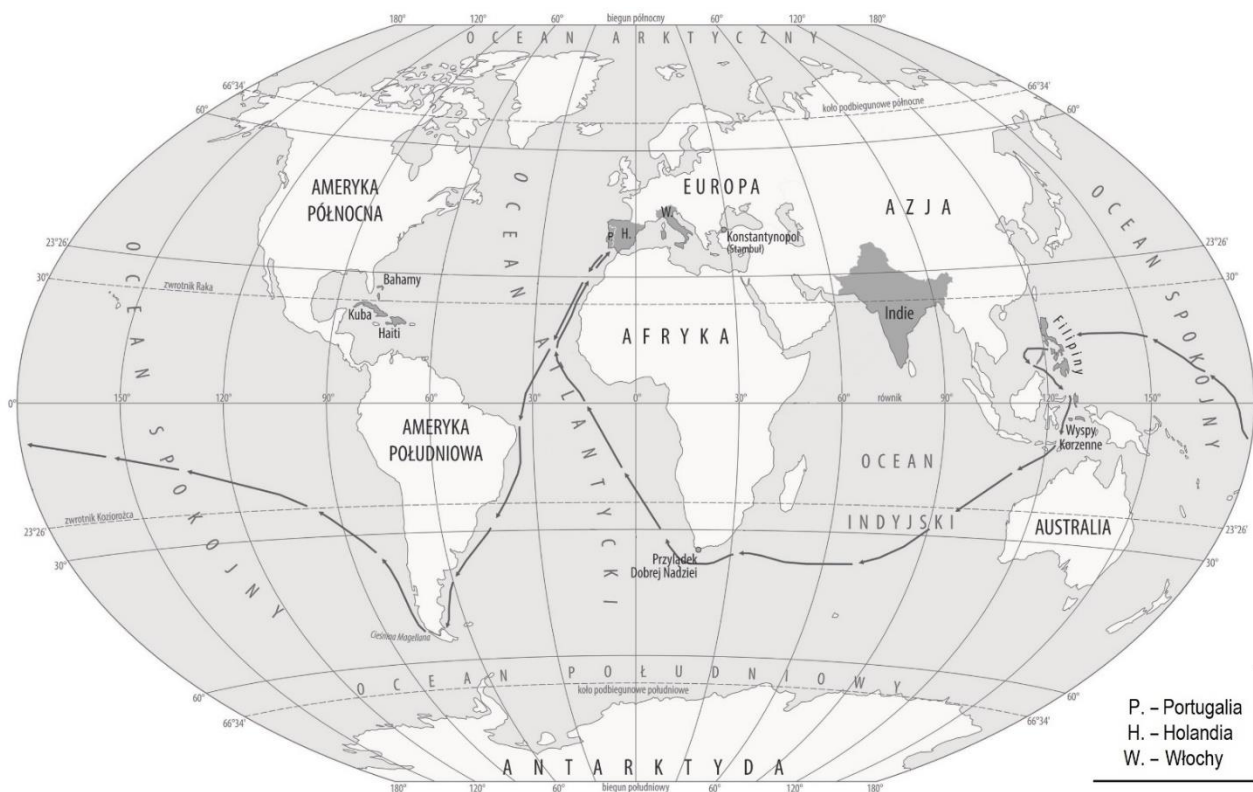
B. Są różnej długości.

D. Łączą biegun północny z biegunem południowym.

Zadanie 3. Oceń prawdziwość informacji. Zaznacz P przy zdaniach prawdziwych oraz F przy fałszywych.

1.	Ziemia jest jedną z ośmiu planet Układu Słonecznego.	P	F
2.	Zwrotnik Koziorożca znajduje się na półkuli północnej.	P	F
3.	Równik dzieli Ziemię na półkule północną i południową.	P	F
4.	Południki to linie o różnej długości.	P	F

Zadanie 4. Przyjrzyj się mapie i dokończ zdania.



- a) Kontynentami leżącym w całości na półkuli południowej są i
- b) Afrykę od wschodu otaczają wody Oceanu
- c) Antarktydę otaczają wody Oceanu
- d) Trasa zaznaczona na mapie pokazuje wyprawę, którą dowodził
- e) Jej statki miały kolejno kontynenty:
- f) Płynęły kolejno przez oceany:

Zadanie 5. Zaznacz prawidłową odpowiedź.

Pierwszym Europejczykiem, który dopłynął do Indii, był:

- A. Krzysztof Kolumb B. Vasco da Gama C. Ferdynand Magellan

Zadanie 6. Wymień trzy przyczyny, dla których ludzie wyruszyli w dalekie podróże.

.....

Zadanie 7. Podaj kierunek, w jakim jest skierowana strzałka na ilustracji obok.

.....

