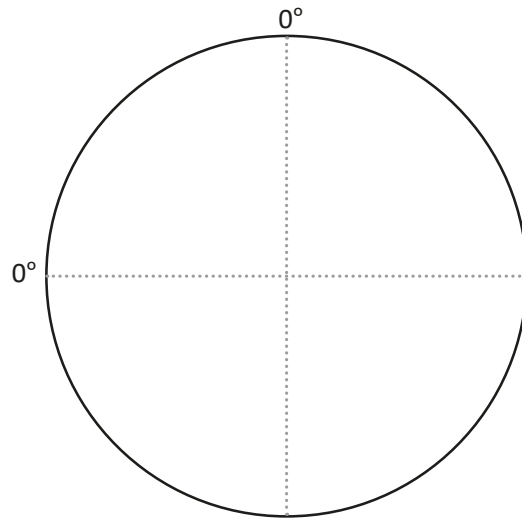
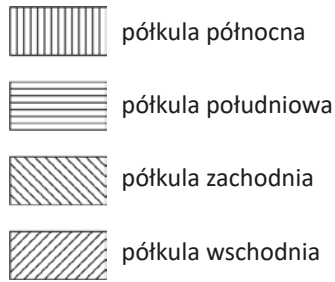




Czas na działanie!

Ziemia – nasza planeta

Zadanie 1. Podziel Ziemię na półkule, a następnie zakreskuj je zgodnie z legendą.

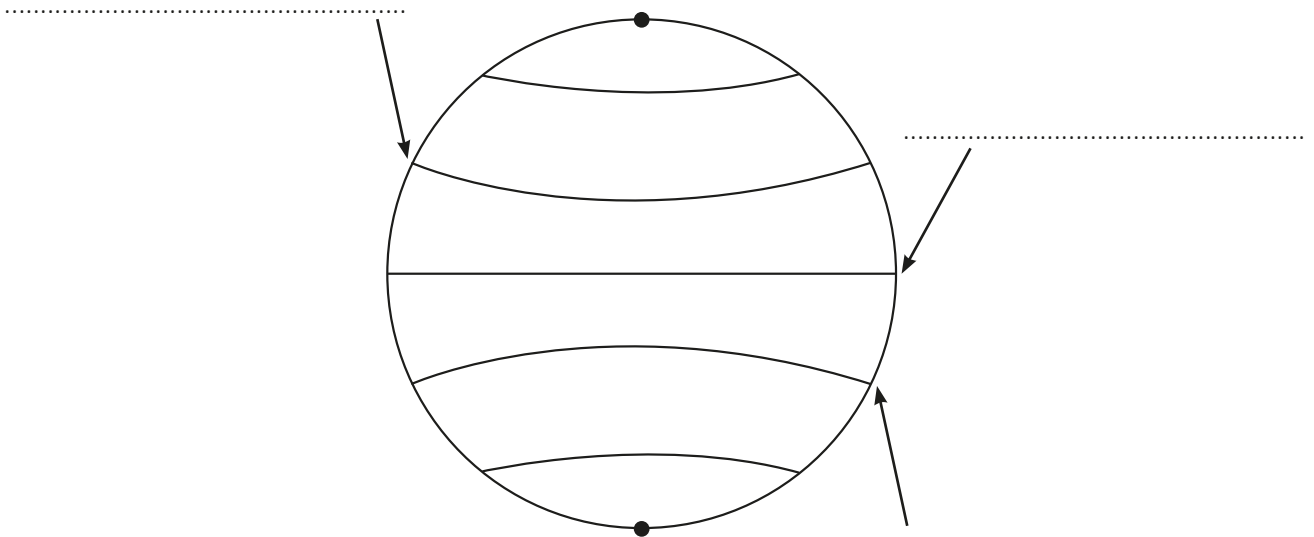


Zadanie 2. Na rysunku zaznaczono wybrane równoleżniki oraz najbardziej wysunięte na północ i południe punkty na Ziemi.

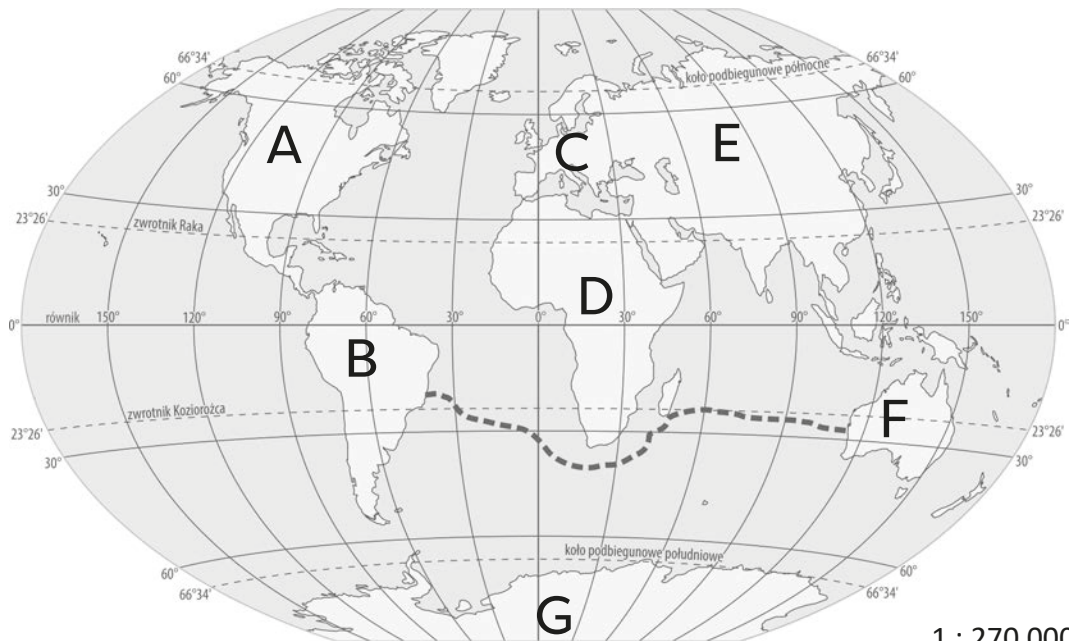
a) Podpisz odpowiednie równoleżniki:

RÓWNIK • ZWROTNIK RAKA • ZWROTNIK KOZIOROŻCA

b) Zaznacz niebieskim kolorem koło podbiegunowe północne, a kolorem czerwonym – koło podbiegunowe południowe.



Zadanie 3. Rysunek przedstawia ukształtowanie kontynentów i oceanów na ziemi oraz trasę podróży pewnego statku, która rozpoczęła się w Australii, a zakończyła u wybrzeży Ameryki Południowej.



a) Zapisz nazwy kontynentów oznaczonych literami:

- A –
- B –
- C –
- D –
- E –
- F –
- G –

b) Oceń, czy zdania dotyczące rejsu są prawdziwe. Zaznacz TAK albo NIE.

Statek płynął przez Ocean Indyjski.	TAK	NIE
Statek poruszał się w kierunku wschodnim.	TAK	NIE
Statek przepłynął obok Europy.	TAK	NIE