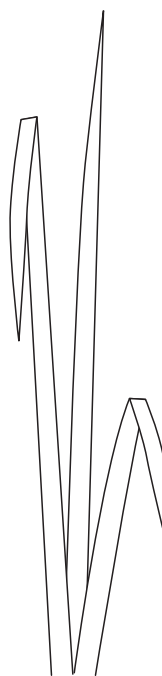
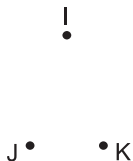
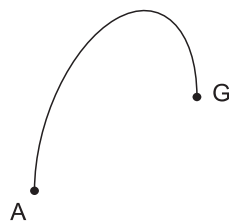


# Piracki sejf

klasa czwarta



- 1 Narysuj prostokąt ABCD, którego krótszy bok jest równy połowie boku AB, będącego górną podstawą prostokąta.
- 2 Narysuj odcinek EF równoległy do dłuższego boku prostokąta, o takiej samej jak ten bok długości.
- 3 Narysuj odcinek AG oraz równoległy do niego i tej samej długości odcinek DH.
- 4 Narysuj odcinek GH.
- 5 Narysuj trójkąt IJK.
- 6 Narysuj okrąg o środku w punkcie I i promieniu 5 mm.

To ....., na którą niedawno przypadkiem się natknęłam. Spodziewałam się złotych monet i sznurów pereł, ale w środku znalazłam tylko wodę i glony. Co w niej teraz trzymam? Odwiedź mnie na [www.matlandia.pl](http://www.matlandia.pl), to może się dowiesz.

Syrenka z Matlandii

