



Czas na ćwiczenia!

Klimat

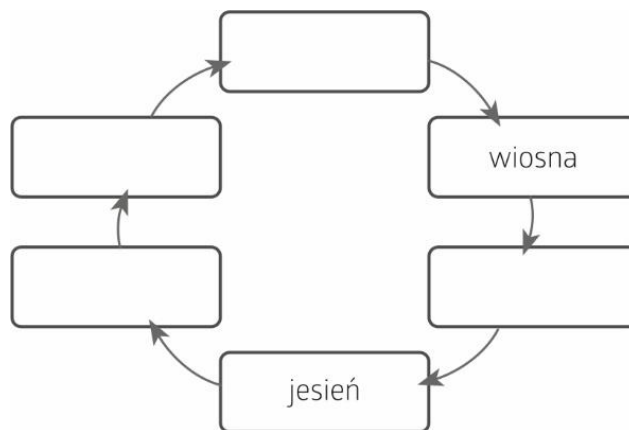
Zadanie 1. a) Uzupełnij schemat o brakujące nazwy termicznych pór roku w Polsce.

b) Uzupełnij zdanie.

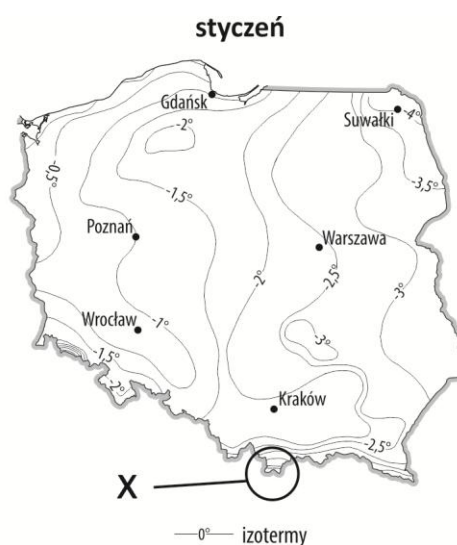
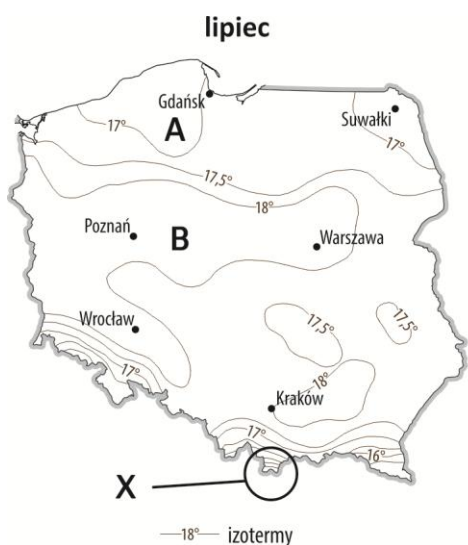
Okres wegetacyjny to czas, gdy średnia dobowa temperatura powietrza wynosi lub więcej.

c) Pokoloruj zielonym kolorem ramki z nazwami tych pór roku, które obejmuje okres wegetacyjny.

d) Obwiedź niebieską kredką ramkę z nazwą pory roku, w której występują największe opady.



Zadanie 2. Na mapach przedstawiono rozkład średnich miesięcznych temperatur powietrza w Polsce. Literami A, B oraz X oznaczono wybrane obszary.



a) Odczytaj, gdzie w lipcu jest chłodniej – na obszarze A czy B. Wyjaśnij za pomocą dwóch argumentów, dlaczego we wskazanym regionie jest chłodniej.

Chłodniej jest na obszarze , ponieważ:

-
-

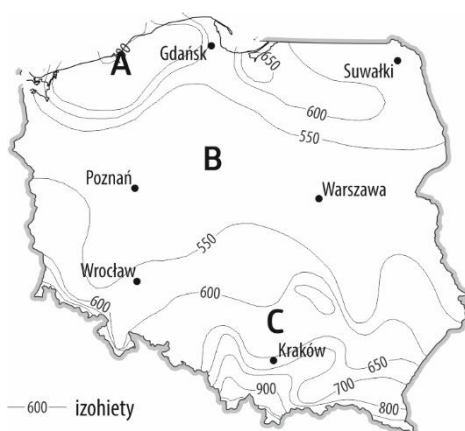
b) Napisz, dlaczego (niezależnie od pory roku) najzimniej jest na obszarze oznaczonym na obu mapach literą X.

.....

Zadanie 3. Uzupełnij na rysunkach grotę strzałek tak, aby poprawnie przedstawiały kierunki bryzy za dnia i w nocy.



Zadanie 4. Na mapie przedstawiono rozkład rocznych sum opadów w Polsce. Literami A–C zaznaczono trzy wybrane obszary.



Oceń poprawność informacji. Zaznacz P (prawda) lub F (fałsz).

Najwięcej opadów w skali całego kraju notuje się na obszarze A.	P	F
Na obszarze B występuje cień opadowy.	P	F
Obszar C leży w pasie wyżyn i opady są tu wyższe niż na obszarze B.	P	F
W przeważającej części kraju roczna suma opadów wynosi 700–800 mm.	P	F

Zadanie 5. Wymień trzy przykładowe skutki zmiany klimatu w Polsce.