



# Czas na ćwiczenia!

Przypomnienie po 6 klasie

**Zadanie 1. a)** Odczytaj współrzędne geograficzne punktów A–D.

A – .....

B – .....

C – .....

D – .....

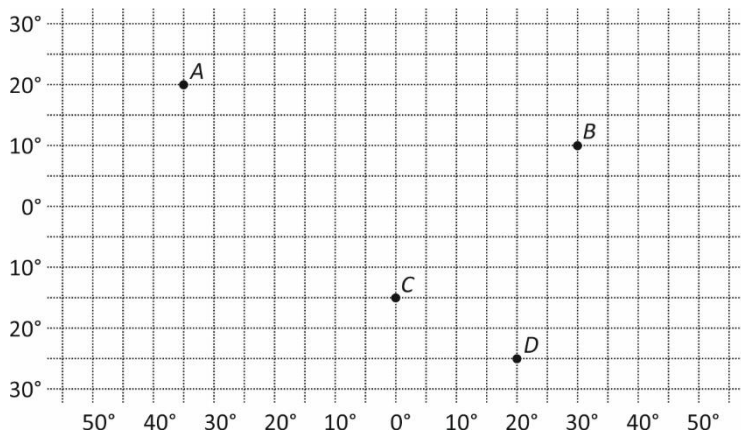
**b)** Zaznacz i podpisz punkty E–H.

E – 20°N 40°W

F – 10°N 10°E

G – 10°S 30°W

H – 10°S 50°E



# Czas na ćwiczenia!

Przypomnienie po 6 klasie

**Zadanie 1. a)** Odczytaj współrzędne geograficzne punktów A–D.

A – .....

B – .....

C – .....

D – .....

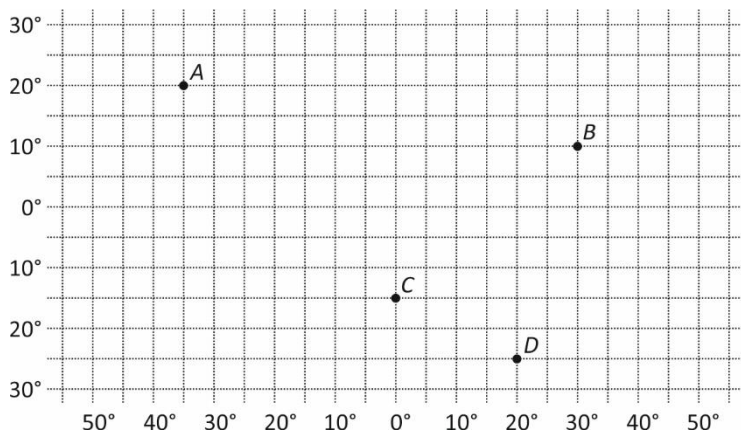
**b)** Zaznacz i podpisz punkty E–H.

E – 20°N 40°W

F – 10°N 10°E

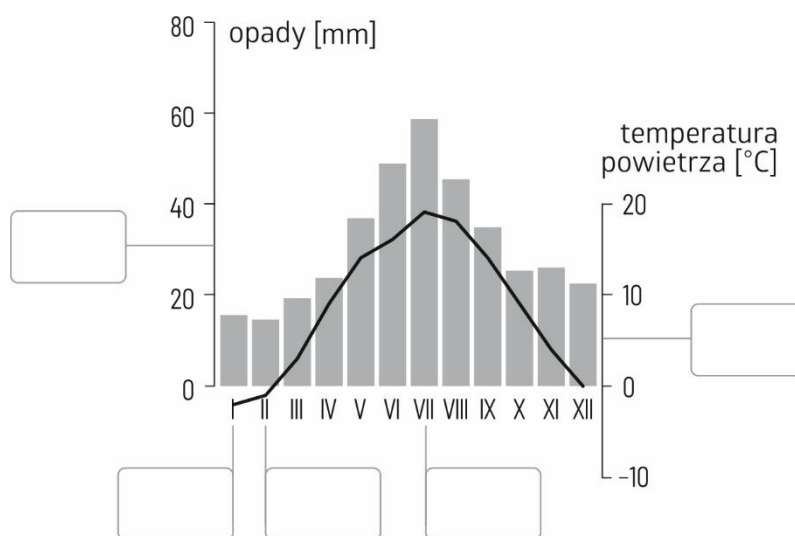
G – 10°S 30°W

H – 10°S 50°E



**Zadanie 2.** Podpisz wskazane elementy klimatogramu informacjami wybranymi z niżej podanych. Wstaw w wyznaczonych miejscach litery A–F.

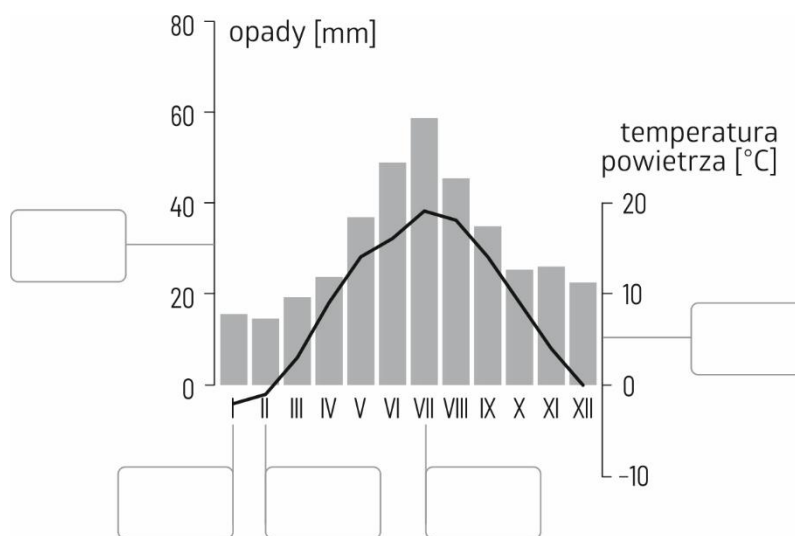
- A. oś odnosząca się do opadów
- B. oś odnosząca się do temperatury powietrza
- C. miesiąc o najniższej średniej miesięcznej temperaturze powietrza
- D. miesiąc o najwyższej średniej miesięcznej temperaturze powietrza
- E. miesiąc o najwyższej miesięcznej sumie opadów
- F. miesiąc o najniższej miesięcznej sumie opadów



© Copyright by Gdańskie Wydawnictwo Oświatowe, autorka: Aleksandra Golecka-Mazur, redakcja: Paweł Druet, ilustracje: Magdalena Batko, Aleksandra Golecka-Mazur

**Zadanie 2.** Podpisz wskazane elementy klimatogramu informacjami wybranymi z niżej podanych. Wstaw w wyznaczonych miejscach litery A–F.

- A. oś odnosząca się do opadów
- B. oś odnosząca się do temperatury powietrza
- C. miesiąc o najniższej średniej miesięcznej temperaturze powietrza
- D. miesiąc o najwyższej średniej miesięcznej temperaturze powietrza
- E. miesiąc o najwyższej miesięcznej sumie opadów
- F. miesiąc o najniższej miesięcznej sumie opadów



© Copyright by Gdańskie Wydawnictwo Oświatowe, autorka: Aleksandra Golecka-Mazur, redakcja: Paweł Druet, ilustracje: Magdalena Batko, Aleksandra Golecka-Mazur