

## Rozdział 6. Zwycięstwo aliantów

### Polecenie 1. (3 punkty)

Połącz każde wydarzenie z właściwą datą.

- |  |                       |
|--|-----------------------|
| 1. bezwarunkowa kapitulacja Japonii              | A. 6 czerwca 1944 r.  |
| 2. zrzućenie bomby atomowej na Hiroszimę         | B. 6 sierpnia 1945 r. |
| 3. otwarcie drugiego frontu w Europie Zachodniej | C. 2 września 1945 r. |

1 – ....., 2 – ....., 3 – .....

### Polecenie 2. (2 punkty)

Przyjrzyj się mapie, a następnie określ, czy podane zdania są prawdziwe, czy fałszywe.

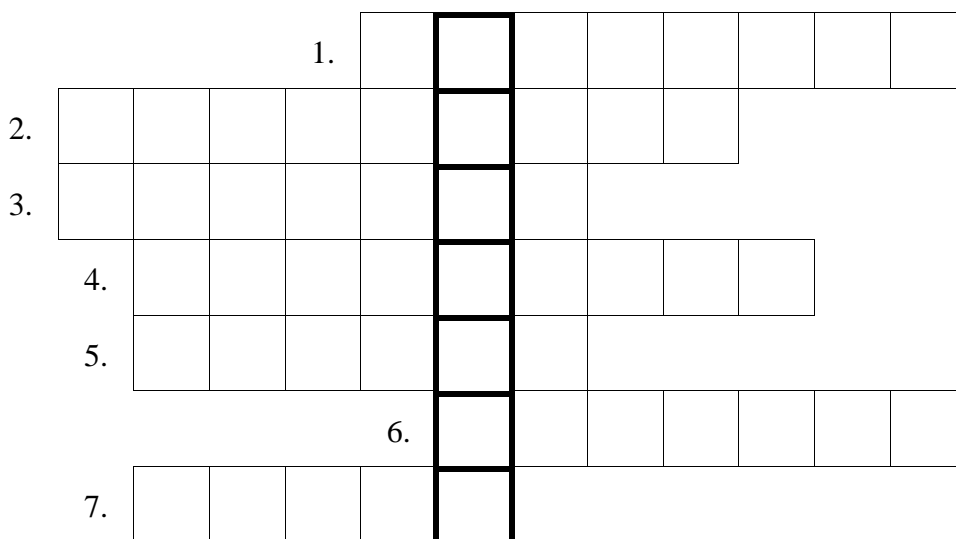
Wstaw znak X w odpowiednich rubrykach.



Zdanie	Prawda	Falsz
Linia spotkania wojsk państw sprzymierzonych przebiegała przez obszar czterech państw.		
Wojska ZSRR nie wkroczyły do Włoch.		

**Polecenie 3. (8 punktów)**

Rozwiąż krzyżówkę, a następnie wyjaśnij hasło.



1. Nazwa miejscowości, na którą 9 sierpnia 1945 r. zrzucono bombę atomową.
2. Nazwisko przywódcy Włoch.
3. Główne miejsce walk między Japonią a USA.
4. Nazwa regionu, w którym w sierpniu 1944 r. dokonano desantu wojsk zachodnich aliantów.
5. Przerzucenie wojsk drogą morską lub powietrzną na teren zajęty przez nieprzyjaciela.
6. Miejsce, w którym doszło do przełomowej bitwy podczas walk we Włoszech: Monte...
7. „Żabie ...” – określenie taktyki stosowanej przez Amerykanów podczas wojny z Japonią.

Hasło: .....

.....

## Rozdział 6. Zwycięstwo aliantów

### Polecenie 1. (3 punkty)

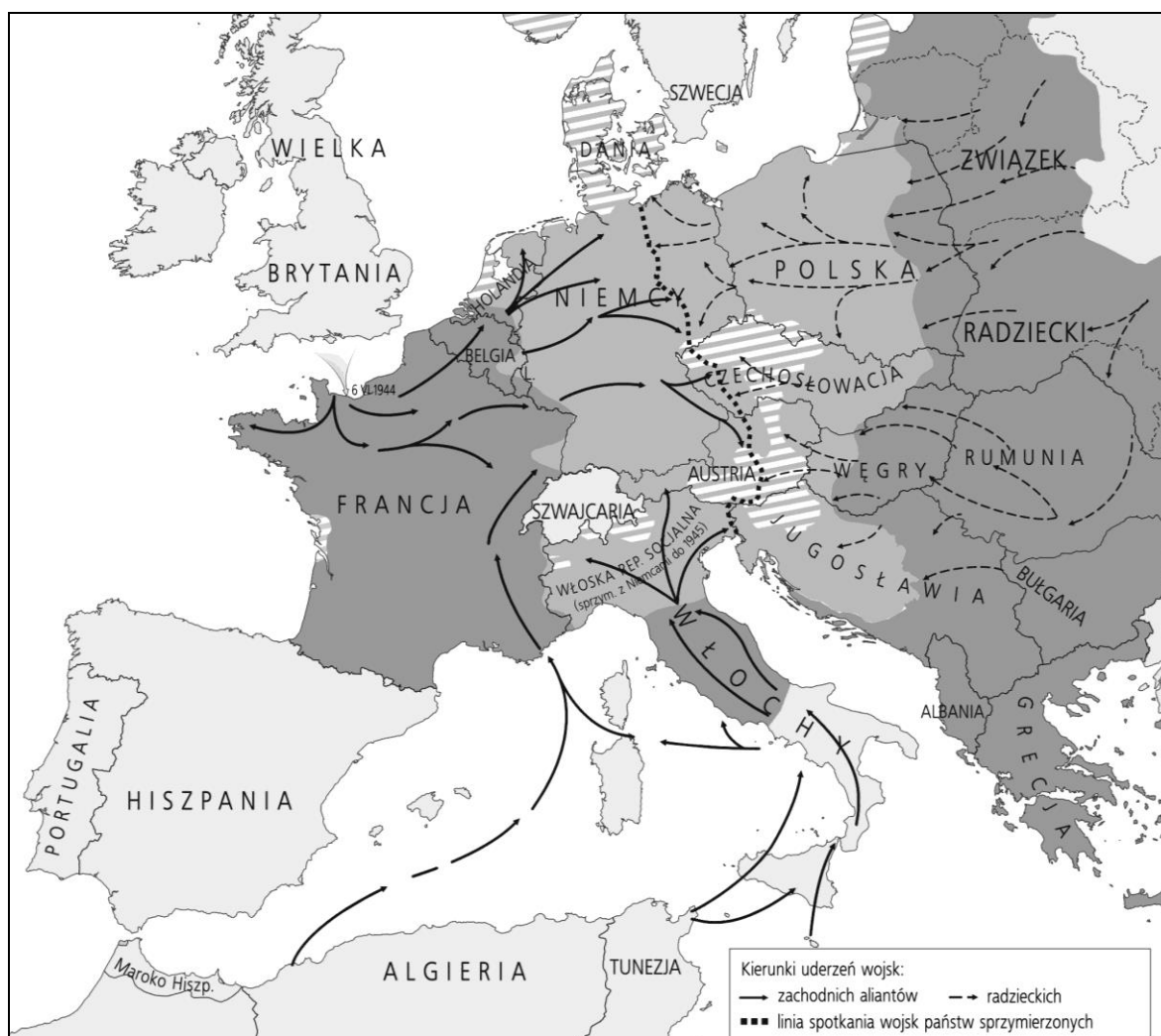
Połącz każde wydarzenie z właściwą datą.

- |  |                       |
|--|-----------------------|
| 1. bezwarunkowa kapitulacja Trzeciej Rzeszy      | A. 6 czerwca 1944 r.  |
| 2. zrzućenie bomby atomowej na Hiroszimę         | B. 8 maja 1945 r.     |
| 3. otwarcie drugiego frontu w Europie Zachodniej | C. 6 sierpnia 1945 r. |
- 1 – ....., 2 – ....., 3 – .....

### Polecenie 2. (2 punkty)

Przyjrzyj się mapie, a następnie określ czy podane zdania są prawdziwe czy fałszywe.

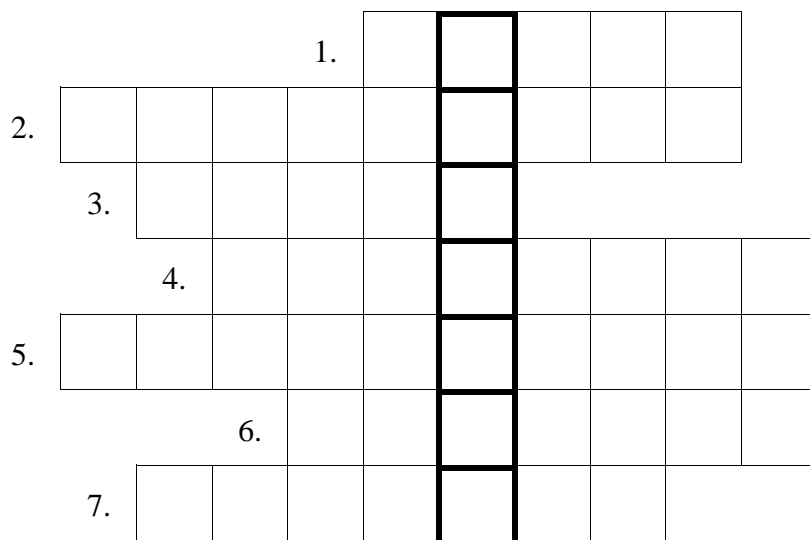
Wstaw znak X w odpowiednich rubrykach.



Zdanie	Prawda	Falsz
Linia spotkania wojsk państw sprzymierzonych przebiegała przez obszar dwóch państw.		
Wojska zachodnich aliantów nie dotarły do Czechosłowacji.		

### Polecenie 3. (8 punktów)

Rozwiąż krzyżówkę, a następnie wyjaśnij hasło.



1. Nazwa francuskiego miasta wyzwolonego przez zachodnich aliantów w sierpniu 1944 r.
2. Nazwisko przywódcy Włoch.
3. „Żabie ...” – określenie taktyki stosowanej przez Amerykanów podczas wojny z Japonią.
4. Nazwa miejscowości, na którą 9 sierpnia 1945 r. zrzucono bombę atomową.
5. Nazwa regionu, w którym w sierpniu 1944 r. dokonano desantu wojsk zachodnich aliantów.
6. Główne miejsce walk między Japonią a USA.
7. Miejsce, w którym doszło do przełomowej bitwy podczas walk we Włoszech: Monte...

Hasło: .....

.....

## **Rozdział 6. Zwycięstwo aliantów** – model odpowiedzi (13 pkt)

### **Grupa A**

#### **Polecenie 1. (0–3)**

1 – C, 2 – B, 3 – A

#### **Polecenie 2. (0–2)**

P, P

#### **Polecenie 3. (0–8)**

1. *NAGASAKI*
2. *MUSSOLINI*
3. *PACYFIK*
4. *NORMANDIA*
5. *DESANT*
6. *CASSINO*
7. *SKOKI*

*Alianci – sojusznicy walczący przeciwko państwom osi (Trzeciej Rzeszy, Włochom i Japonii oraz ich sojusznikom).*

### **Grupa B**

#### **Polecenie 1. (0–3)**

1 – B, 2 – C, 3 – A

#### **Polecenie 2. (0–2)**

F, F

#### **Polecenie 3. (0–8)**

1. *PARYŻ*
2. *MUSSOLINI*
3. *SKOKI*
4. *NAGASAKI*
5. *NORMANDIA*
6. *PACYFIK*
7. *CASSINO*

*Alianci – sojusznicy walczący przeciwko państwom osi (Trzeciej Rzeszy, Włochom i Japonii oraz ich sojusznikom).*