

Rozdział 31. Upadek Rzeczypospolitej

Polecenie 1. (2 punkty)

Ustal, czy podane zdania są prawdziwe czy fałszywe. Wstaw znak X w odpowiednich rubrykach.

Zdanie	Prawda	Falsz
Powstanie kościuszkowskie zapoczątkowała przysięga Kościuszki na rynku w Warszawie.		
Wydany w czasie insurekcji kościuszkowskiej Uniwersał połaniecki miał zachęcić chłopów do masowego udziału w powstaniu.		

Polecenie 2. (3 punkty)

Przeczytaj tekst źródłowy, a następnie wykonaj polecenia.

Ja, Tadeusz Kościuszko, przysięgam w obliczu Boga całemu Narodowi Polskiemu, iż powierzanej mi władzy na niczyj prywatny ucisk nie użyję, lecz jedynie jej dla obrony całości granic, odzyskania samowładności Narodu i ugruntowania powszechnej wolności używać będę. Tak mi Panie Boże dopomóż i niewinna męka Syna Jego.

Przysięga Tadeusza Kościuszki

a) Podaj datę roczną tego wydarzenia.

b) Wyjaśnij, dlaczego doszło do tego wydarzenia i jakie miało ono konsekwencje dla Polski.

.....
.....






Polecenie 3. (3 punkty)

Na mapie zaznaczono obszary Rzeczypospolitej zajęte przez sąsiadów w trzecim rozbiore. Uzupełnij legendę, wpisując nazwę państwa, które dokonało ich zaboru.



Legenda

Tereny zajęte przez:

-  —
-  —
-  —

Rozdział 31. Insurekcja kościuszkowska

Polecenie 1. (2 punkty)

Ustal, czy podane zdania są prawdziwe, czy fałszywe. Wstaw znak X w odpowiedniej rubryce tabeli.

Zdanie	Prawda	Falsz
Do wybuchu powstania kościuszkowskiego doszło w 1794 r.		
Kosynierami nazywamy formację mieszczan uzbrojonych w kosy osadzone na sztorc.		

Polecenie 2. (3 punkty)

Przeczytaj tekst źródłowy, a następnie wykonaj polecenia.

Ja, Tadeusz Kościuszko, przysięgam w obliczu Boga całemu Narodowi Polskiemu, iż powierzanej mi władzy na niczyj prywatny ucisk nie użyję, lecz jedynie jej dla obrony całości granic, odzyskania samowładności Narodu i ugruntowania powszechnej wolności używać będę. Tak mi Panie Boże dopomóż i niewinna męka Syna Jego.

Przysięga Tadeusza Kościuszki

a) Określ miejsce, w którym doszło do tego wydarzenia.

b) Wyjaśnij, dlaczego doszło do tego wydarzenia i jakie miało ono konsekwencje dla Polski.

.....
.....



Polecenie 3. (3 punkty)

Na mapie zaznaczono obszary Rzeczypospolitej zajęte przez sąsiadów w trzecim rozbiore. Uzupełnij legendę, wpisując nazwę państwa, które dokonało ich zaboru.



Legenda

Tereny zajęte przez:

-
-
-

Rozdział 31. Insurekcja kościuszkowska

– model odpowiedzi (8 pkt)

Grupa A

Polecenie 1. (0–2)

F, P

Polecenie 2. (0–3)

b) *1794 rok*

c) Przykładowa odpowiedź:

Powstanie wybuchło w wyniku II rozbioru Polski, a doprowadziło do III rozbioru i upadku państwa polskiego.

(1 punkt przyznajemy za podanie przyczyny, 1 punkt za podanie skutku)

Polecenie 3. (0–3)

Rosję

Prusy

Austrię

Grupa B

Polecenie 1. (0–2)

P, F

Polecenie 2. (0–3)

a) *Kraków*

b) Przykładowa odpowiedź:

Powstanie wybuchło w wyniku II rozbioru Polski, a doprowadziło do III rozbioru i upadku państwa polskiego.

(1 punkt przyznajemy za podanie przyczyny, 1 punkt za podanie skutku)

Polecenie 3. (0–3)

Rosję

Prusy

Austrię

